

臺北城市科技大學 數位多媒體設計系

精進甄選入學實作 音樂基本能力模擬試題含答案

單選題

1. 〈 A 〉 點擊節奏A，下列哪一個與聽到的節奏相同？



2. 〈 A 〉 點擊節奏B，下列哪一個與聽到的節奏相同？



3. 〈 A 〉 點擊節奏C，下列哪一個與聽到的節奏相同？



4. 〈 A 〉 點擊節奏D，下列哪一個與聽到的節奏相同？



5. 〈 A 〉 點擊節奏E，下列哪一個與聽到的節奏相同？



6. 〈 A 〉 點擊節奏F，下列哪一個與聽到的節奏相同？



7. 〈 A 〉 點擊節奏G，下列哪一個與聽到的節奏相同？




8. 〈 A 〉 點擊節奏H，下列哪一個與聽到的節奏相同？



9. 〈 A 〉 點擊節奏I，下列哪一個與聽到的節奏相同？




10. 〈 B 〉 這是什麼音？ 


(A) La

(B) Do

- (C) Mi
- (D) Fa

11. 〈 C 〉 這是什麼音？ 


- (A) Re
- (B) Do
- (C) Mi
- (D) Sol

12. 〈 A 〉 這是什麼音？ 


- (A) Re
- (B) Do
- (C) La
- (D) Fa

13. 〈 B 〉 這是什麼音？ 


- (A) La
- (B) Fa
- (C) Mi
- (D) Si

14. 〈 D 〉 這是什麼音？ 


- (A) Si
- (B) Do
- (C) Mi
- (D) La

15. 〈 C 〉 這是什麼音？ 


- (A) La
- (B) Mi
- (C) Do
- (D) Fa

16. 〈 B 〉 這是什麼音？ 

- (A) La
- (B) Si
- (C) Re
- (D) Fa

17. 〈 A 〉 這是什麼音？ 

- (A) Fa
- (B) Do
- (C) Mi
- (D) La

18. 〈 D 〉 這是什麼音？ 

- (A) La
- (B) Si
- (C) Mi
- (D) Sol

19. 〈 C 〉 點擊 [音感A](#)，請問聽到的兩段音樂是否相同？

- (A) 完全相同
- (B) 完全不同
- (C) 大部分相同，些許不同
- (D) 大部分不同，些許相同

20. 〈 A 〉 點擊 [音感B](#)，請問聽到的兩段音樂是否相同？
- (A) 完全相同
 - (B) 完全不同
 - (C) 大部分相同，些許不同
 - (D) 大部分不同，些許相同
21. 〈 B 〉 點擊 [音感C](#)，請問聽到的音樂是下列何種樂器演奏？
- (A) 小提琴
 - (B) 鋼琴
 - (C) 木琴
 - (D) 管風琴
22. 〈 A 〉 點擊 [音感D](#)，請問聽到的音樂主旋律是下列何種樂器演奏？
- (A) 小提琴
 - (B) 鋼琴
 - (C) 吉他
 - (D) 大提琴
23. 〈 D 〉 點擊 [音感E](#)，請問聽到的音樂是下列何種樂器演奏？
- (A) 管風琴
 - (B) 薩克斯風
 - (C) 豎笛
 - (D) 銅管
24. 〈 C 〉 點擊 [音感F](#)，請問聽到的音樂是下列何種樂器演奏？
- (A) 小提琴
 - (B) 南胡
 - (C) 吉他
 - (D) Bass

25. 〈 A 〉 點擊 [音感G](#)，請問聽到的兩段音樂，人聲的音準哪一個較為正確？

(A) 前面一段

(B) 後面一段

(C) 兩段相同

26. 〈 B 〉 點擊 [音感H](#)，請問聽到的兩段音樂，人聲的音準哪一個較為正確？

(A) 前面一段

(B) 後面一段

(C) 兩段相同

27. 〈 B 〉 點擊 [音感I](#)，請問聽到的兩段音樂，人聲的音準哪一個較為正確？

(A) 前面一段

(B) 後面一段

(C) 兩段相同